



# اشتباهات، مغالطه‌ها و سفسطه‌های ریاضی

اعداد گنگ در تناظر یک‌به‌یک با اعداد گویا نیستند، دانش‌آموزی اعتراض کرد که مگر اعداد گویا و گنگ یک در میان نیستند؟! شاید برای این دانش‌آموز، این شهود اشتباه، استنتاجی از این احکام باشد که بین هر دو عدد گویای متمایز یک عدد گنگ وجود دارد و بین هر دو عدد گنگ متمایز یک عدد گویا وجود دارد.

بعضی اوقات، حتی نام‌گذاری مفاهیم و اشیای ریاضی، می‌تواند دانش‌آموزان را به اشتباه بیندازد. مثلاً گاهی دانش‌آموزان اصطلاح «بسته» را که مفهومی در آنالیز و توپولوژی است، با مفهوم «کرانداری» اشتباه می‌گیرند. شاید یک علت چنین اشتباهی این باشد که از نظر زبانی، «بسته» به‌طور ناخودآگاه محصور بودن در یک مرز محدود را در ذهن القاء کند. حتی ممکن است دانش‌آموز، «بسته» و «باز» را به‌خاطر معنی لغوی آن‌ها نقیض همدیگر بگیرد.

اشتباهات دیگری هم هستند که جنبه منطقی دارند. یک نمونه بارز در این زمینه موقعی است که از شاگرد خواسته می‌شود نشان دهد حکم خاصی با حذف یکی از مفروضاتش برقرار نیست. بسیاری از اوقات مشاهده شده است که شاگرد به جای ارائه مثال نقض، بیان می‌کند که چون استدلال حکم، بدون فرض حذف شده کار نمی‌کند، پس این شرط حذف شده لازم است.

همچنین در بعضی مواقع، شاگردان از یک راه نادرست به یک پاسخ درست می‌رسند، که البته در چنین شرایطی متقاعد کردن آن‌ها همیشه کار زیاد ساده‌ای نیست!

نوع دیگری از اشتباهات آن‌هایی هستند که بسیار غیربدیهی‌ترند و گاهی ممکن است یک فرد باتجربه را هم

مدرسان ریاضی، اغلب با اشتباهات ریاضی شاگردان هنگام تدریس یا هنگام امتحان مواجه می‌شوند. اشتباهات ریاضی درجاتی دارند. بعضی از آن‌ها می‌توانند اشتباهات سهوی باشند، از قبیل یک اشتباه محاسباتی، کم دقتی یا سهل‌انگاری در اثبات، خلط کردن دو میحث، استفاده از یک فرمول نادرست، اشتباه در به‌کار بردن جمع و ضرب، اشتباه در نسبت و تناسب، بد گذاشتن جای پرانتزها در محاسبات جبری، ساده‌سازی اشتباه در محاسبات با کسرها، اشتباه بین یک مثبت و منفی در یک محاسبه یا بسیاری موارد دیگر که طبقه‌بندی مفصل آن‌ها، از حوصله این متن خارج است. موقعیت‌هایی هم وجود دارند که خطا و اشتباه از علم و دانش دانش‌آموز نشأت می‌گیرد، یعنی اگر دانش‌آموز مطلبی را نمی‌داند، شاید مرتکب یک اشتباه به‌خصوص نمی‌شد.

اشتباهات دیگری هستند که یک شهود نادرست، مسبب آن‌هاست، از قبیل قاعده اشتباه مشتق‌گیری مانند  $(fg)' = f'g'$ ،  $(a+b)^x = a^x + b^x$ ،  $2^{x+y} = 2^x + 2^y$ ،  $\log(x+y) = \log x + \log y$  این‌ها یا حالا اشتباه دیگری که در آن ممکن است دانش‌آموز  $\lim_{n \rightarrow \infty} \frac{2^{n+1}}{2^n} = 1$  در نظر بگیرد. در واقع این اشتباه، شاید از شهودی می‌آید که در آن،  $\frac{\infty}{\infty} = 1$  که البته در مواردی هم درست است یا اشتباهات دیگری که دانش‌آموز از قاعده‌هایی استفاده می‌کند که در حالت‌هایی درست هستند، اما در حالت به‌کار گرفته شده درست نیستند، مثل دانش‌آموزی که می‌پندارد ضرب دو عدد مثبت صرف‌نظر از اینکه صحیح یا کسری باشند، همواره از خود آن دو عدد بزرگتر یا مساوی است. نگارنده به یاد می‌آورد سر یک کلاس وقتی نشان داده شد که

به اشتباه بیندازند که این اشتباهات را می‌توان به‌عنوان سفسطهٔ ریاضی تلقی کرد.

### سفسطه یا پارادوکس

بین سفسطه و پارادوکس تفاوت است، زیرا پارادوکس ریاضی تناقضی است که معمولاً با یک استدلال موجه حاصل می‌شود. پارادوکس موجب ایرادهایی جدی به اصول، تعریف‌ها یا مفروضات شده و گاهی مجبور می‌شویم در آن‌ها تجدید نظر کنیم، یا آن‌ها را به‌طور دقیق‌تری بیان کنیم. از این منظر، پارادوکس‌ها باعث می‌شوند نسبت به استوار کردن شالوده‌های ریاضیات، اهتمام بورزیم. اما سفسطه تناقضی است که از یک استدلال با ظاهر صحیح، اما در باطن تقلبی، به دست آمده است. البته سنخ سفسطه در ریاضیات با گونه‌های نظیر آن در فلسفه یا علوم دیگر، متفاوت است. قبلی که گاهی برای سفسطه و سوفسطائیان در بعضی از علوم وجود دارد، شاید در ریاضیات چندان وجود نداشته باشد. یک دلیل این است که در ریاضیات، تشخیص درستی برهان، کمتر محل مناقشه است و سفسطه و سوفسطائیان خطری جدی در این علم تلقی نمی‌شوند. در لغت‌نامهٔ انگلیسی آکسفورد، سوفسطائی<sup>۲</sup> را این‌طور توصیف کرده است: **فردی که یک استدلال هوشمندانه اما مغالطه‌آمیز به کار می‌بندد.**

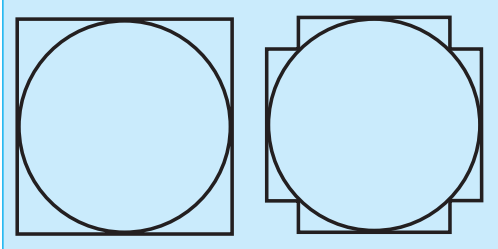
سفسطه‌های ریاضی اشتباه‌هایی هستند که فریبنده‌تر و چیره‌دستانه‌تر هستند و وجه نهفتهٔ حقیقت در آن‌ها، نسبتاً قابل توجه است. این خطاها و اشتباهات می‌توانند از منظر ریاضی، گاهی بسیار جالب و آموزنده باشند. معلمان باتجربه واقفند که تا چه حد توضیح یک اشتباه غیربیدیهی برای کلاس، می‌تواند از نظر آموزشی ارزشمند باشد. حتی این موضوع در زندگی هم پیش می‌آید که بشر از اشتباهات و شکست‌هایش، بیشترین درس را می‌آموزد. اشتباهات جالب، معمولاً از علم و دانش نشأت می‌گیرند و حتی بعضی از آن‌ها در حالت‌هایی، می‌توانند نشانهٔ نبوغ تلقی شوند. بدین سبب در بعضی مواقع، اشتباهات در ریاضیات به خاطر بُعد آموزشی آن‌ها، تا حدودی تحسین شده‌اند. لمب<sup>۳</sup> استاد دانشگاه یوتا در «وبلاگی دربارهٔ وبلاگ‌های ریاضی<sup>۴</sup>» روی سایت انجمن ریاضی آمریکا، هم قافیه با نقل قول مشهوری از تولستوی می‌نویسد «راه‌حل‌های درست همه شبیه هستند، اما راه‌حل‌های نادرست هر کدام به شیوه خود نادرست هستند.»

در بخش بعد، چند نمونه از این سفسطه‌ها یا مغالطه‌ها که بیشتر ماهیت هندسی دارند، بیان می‌شوند. همهٔ مواردی که می‌آیند، سفسطه‌های شناخته شده و قدیمی‌اند، اما به قولی «روح نو بین در تن حرف کهن».

برای برانگیختن بیشتر حس کنجکاوی، از بیان جایی که اثباتش سفسطه‌آمیز است، اجتناب کرده‌ایم.

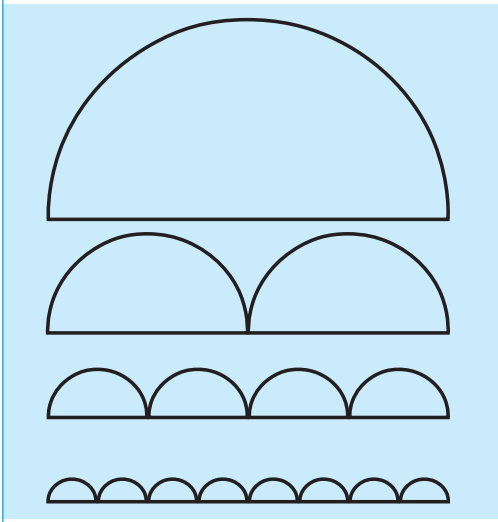
### مغالطهٔ $\pi = 4$

یک دایره به قطر ۱ در نظر بگیرید. محیط این دایره برابر با  $\pi$  است. این دایره را در یک مربع به ضلع ۱ محاط می‌کنیم. محیط این مربع برابر با ۴ است. حال به صورت زیگزاگی، گوشه‌های این مربع را ببرید و آن را به دو گوشهٔ کوچک‌تر تقسیم کنید. محیط شکل ۸ گوشه حاصل، تغییری نمی‌کند و برابر با ۴ است. این فرایند را ادامه دهید، یک شکل ۱۶ گوشه به دست می‌آید. با ادامهٔ این فرایند در هر مرحله، چندضلعی‌ای حاصل می‌شود که محیط آن همچنان ۴ است و به دایره میل می‌کند. پس  $\pi = 4!$

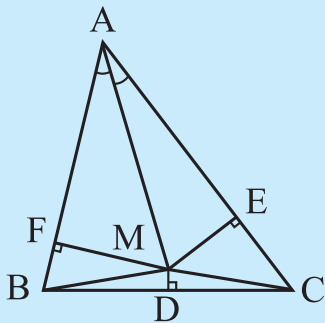


### مغالطهٔ $\pi = 2$

یک پاره‌خط به طول ۱ در نظر می‌گیریم و روی آن،  $n$  نیم‌دایره هر کدام به قطر  $\frac{1}{n}$  رسم می‌کنیم. محیط هر کدام از این نیم‌دایره‌ها برابر با  $\frac{\pi}{2n}$  است. بنابراین مجموع محیط شکل حاصل، برابر با  $n \times \frac{\pi}{2n} = \frac{\pi}{2}$  می‌شود. وقتی  $n$  زیاد می‌شود، این نیم‌دایره‌ها به پاره‌خط نزدیک می‌شوند و طول آن‌ها به طول پاره‌خط نزدیک می‌شود، پس  $\frac{\pi}{2} = 1!$



عمود منصف ضلع BC را M می‌نامیم. فرض کنید F پای عمود فرود آمده از M بر ضلع AB و E پای عمود فرود آمده از M بر ضلع AC باشد. دو مثلث قائم‌الزاویه AMF و AME و حالت وتر و یک زاویه با هم هم‌نهشت هستند. پس خواهیم داشت.



$$AF=AE \quad (1)$$

$$MF=ME \quad (2)$$

از سوی دیگر، چون MD عمود منصف ضلع BC است، پس  $MB=MC$ . از تساوی اخیر و رابطه (2) نتیجه می‌شود که دو مثلث قائم‌الزاویه MFB و MEC به حالت وتر و یک ضلع، با هم هم‌نهشت هستند. در نتیجه خواهیم داشت.

$$FB=EC \quad (3)$$

از دو رابطه (1) و (3) نتیجه می‌شود  $AB=AC$ ، پس مثلث ABC متساوی‌الساقین است!

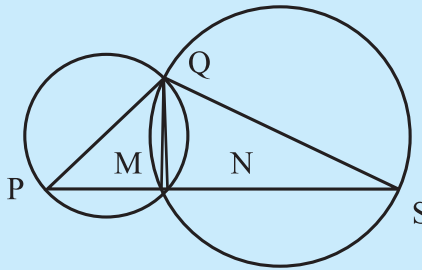
### مغالطه برابر بودن محیط هر دو دایره

دو دایره هم‌مرکز را در نظر می‌گیریم. تصور کنید که این دو دایره به صورت یک چرخ درآمده باشند. این چرخ را روی یک خط مستقیم آن قدر می‌غلطانیم تا نقطه تماس اولیه A با خط، دوباره روی همان خط قرار گیرد، نقطه جدید A' را می‌نامیم. در این فرایند، A به اندازه محیط دایره بزرگتر را طی می‌کند تا به A' برسد. پس طول  $AA'$  برابر با محیط دایره بزرگتر است. با همین استدلال، طول  $BB'$  برابر با محیط دایره کوچکتر است. چون  $AA'$  و  $BB'$  با هم برابرند، نتیجه می‌شود محیط دو دایره با هم برابرند!



### مغالطه رسم دو عمود از یک نقطه بر یک خط

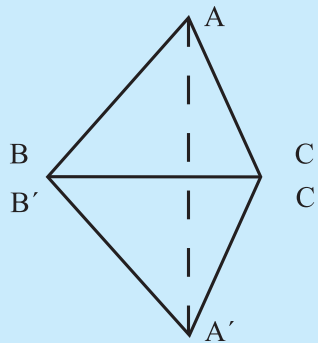
یک نقطه Q خارج از یک پاره‌خط PS در نظر می‌گیریم. دایره‌هایی به قطر QP و QS رسم می‌کنیم. پاره‌خط PS، این دو دایره را در نقاط M و N قطع می‌کند. زاویه QMS با توجه به اینکه روبه‌روی قطر QS است، قائمه است. به همین ترتیب زاویه QNP با توجه به اینکه روبه‌روی قطر PQ است قائمه است. پس QM و QN دو عمود از Q بر خط واصل بین P و S هستند!



### مغالطه هم‌نهشتی دو مثلث به حالت ض‌ض‌ز

فرض کنید برای دو مثلث ABC و A'B'C' داشته باشیم،  $AB=A'B'$  و  $BC=B'C'$  و  $\angle BAC = \angle B'A'C' = \alpha$ ، یعنی به حالت ض‌ض‌ز هم‌نهشت هستند.

اضلاع BC و B'C' را مطابق شکل، روی هم قرار می‌دهیم. نقطه A را به A' وصل می‌کنیم. با توجه به متساوی‌الساقین بودن مثلث ABA'، دو زاویه  $\angle BAA'$  و  $\angle B'A'A$  با هم برابرند. با توجه به اینکه دو زاویه  $\angle BAC$  و  $\angle B'A'C'$  با هم برابرند، نتیجه می‌شود دو زاویه  $\angle AA'C'$  و  $\angle A'AC$  نیز با هم برابرند. پس مثلث AA'C' متساوی‌الساقین است، یعنی  $AC=A'C'$ ، در نتیجه دو مثلث ABC و A'B'C' به حالت ض‌ض‌ض با هم، هم‌نهشت هستند!



### مغالطه متساوی‌الساقین بودن هر مثلث

مثلث دلخواه ABC را در نظر بگیرید. فرض کنید D نقطه وسط BC باشد. محل تقاطع نیمساز زاویه A و

معلم‌ان با تجربه  
واقفند که تا چه حد  
توضیح یک اشتباه  
غیربدیهی برای  
کلاس، می‌تواند  
از نظر آموزشی  
ارزشمند باشد.  
حتی این موضوع  
در زندگی هم  
پیش می‌آید که  
بشر از اشتباهات  
و شکست‌هایش،  
بیشترین درس را  
می‌آموزد

## مغالطه در اثبات محاسبه مجموع زوایای داخلی

### یک مثلث

فرض کنید مجموع زوایای داخلی مثلث برابر با  $\alpha$  باشد. پس در مثلث ABD داریم

$$\angle 1 + \angle 2 + \angle 3 = \alpha$$

به طور مشابه در مثلث ADC به دست می آوریم.

$$\angle 4 + \angle 5 + \angle 6 = \alpha$$

با جمع کردن دو رابطه اخیر به دست می آید

$$\angle 1 + \angle 2 + \angle 3 + \angle 4 + \angle 5 + \angle 6 = 2\alpha$$

اما چون دو زاویه  $\angle 3$  و  $\angle 4$  مکمل هستند پس

$$\angle 3 + \angle 4 = 180^\circ$$

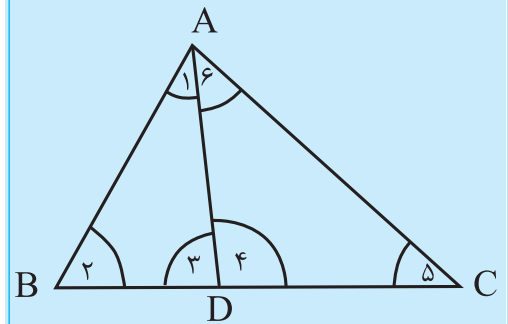
بنابراین به دست می آید

$$\angle 1 + \angle 2 + 180^\circ + \angle 5 + \angle 6 = 2\alpha$$

اما  $\angle 1 + \angle 2 + \angle 5 + \angle 6$  مجموع زوایای داخلی

مثلث ABC است که برابر با  $\alpha$  است. پس به دست

می آید  $2\alpha = \alpha + 180^\circ$ ، پس  $\alpha = 180^\circ$ .



### منابعی برای مطالعه بیشتر

کتاب‌های زیادی درباره اشتباه‌ها، مغالطه‌ها، پارادوکس‌ها و سفسطه‌های ریاضی نوشته‌اند. یکی از این کتاب‌ها، منبع [۳] نوشته نور تروپ است که در سال ۱۳۵۰ تحت عنوان «معمای ریاضی، حیل‌های جبری و هندسی، مغالطات و تناقضات» توسط محمد رکنی قاجار (از زبان فرانسوی) ترجمه شده و به وسیله انتشارات یکان چاپ شده که ظاهراً در حال حاضر، این کتاب خارج از چاپ است. یک کتاب دیگر در این زمینه منبع [۲] نوشته ماکسول است که تحت عنوان «مغالطه‌های ریاضی» توسط غلامرضا یاسی پور ترجمه شده و انتشارات محراب قلم در سال ۱۳۸۰ آن را چاپ کرده است. یک کتاب قدیمی‌تر و منبع [۱] هم توسط لیتسمان و تریر با عنوان «اشتباه کجاست؟» نوشته شده است (چاپ اول، سال ۱۹۱۳) که یکی از سرچشمه‌های اصلی کتاب‌های معرفی شده محسوب

می‌شود. در این منبع، بسیاری از اشتباه‌های ریاضی مورد بررسی قرار می‌گیرند. در شماره‌های پیشین مجله رشد آموزش ریاضی، مقاله‌های متعددی به بررسی اشتباه‌های ریاضی پرداخته‌اند که از جمله، می‌توان به مقاله با عنوان «منشأ خطاهای دانش‌آموزان» نوشته بن‌زیو اشاره کرد که خلاصه‌ای از این منبع، توسط سپیده چمن‌آرا در مجله رشد آموزش ریاضی (دوره ۲۹، شماره ۲، زمستان ۱۳۹۰) ترجمه و چاپ شده است و در آن، نویسنده به بررسی خطاهای معقول ریاضی پرداخته است. در مقاله «پارادوکس‌های هندسی» نیز (مجله رشد برهان متوسطه ۲، دوره ۲۱، شماره ۷۴، تابستان ۱۳۹۳) فرزاد حمزه‌پور به بررسی سه سفسطه هندسی پرداخته است. یکی سفسطه متساوی‌الساقین بودن هر مثلث و دیگری، رسم دو عمود از یک نقطه بر یک خط داده شده است که در این مقاله هم بررسی شدند. همچنین یک سفسطه دیگر نیز در مورد منفرجه بودن زاویه قائمه در مقاله «مغالطه‌های ریاضی» (مجله رشد برهان متوسطه ۲، دوره ۲۵، شماره ۹۴، اردیبهشت ۱۳۹۵) توسط احسان یارمحمدی نوشته شده است که در آن، به دو مغالطه هندسی، یکی متساوی‌الساقین بودن هر مثلث (با روش مثلثاتی) و دیگری مغالطه قرار داشتن هر نقطه درون یک دایره روی محیط آن، بررسی شده است.

### پی‌نوشت

۱. منظور از شاگرد، هم دانش‌آموز و هم دانشجویست و معادل student است.

2. Sophist

3. Evelyn Lamb

4. Blog on Math Blogs, (<http://blogs.ams.org/blogonmathblogs/>)

### منابع

- [1] Lietzmann, W. and Trier, O. (1913). "Wo steckt der Fehler? Trugschlüsse und Schülerfehler." Leipzig: B. G. Teubner. IV+57 S. kl. 8° (Math. Bibl. X) (1913).
- [2] Maxwell, E. A. (1959). Fallacies in mathematics Cambridge University Press, New York.
- [3] Northrop, E. P. (1959). "Riddles in mathematics. A book of paradoxes." London: The English Universities Press Ltd. X, 242 p. (1959).